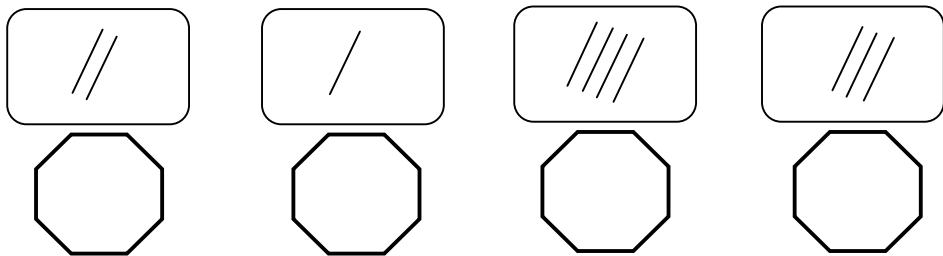


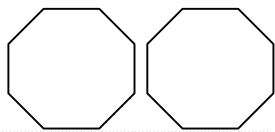
پسرم چوب خط ها را به دقت بشمار و عدد مناسب هر چوب خط را بنویس.



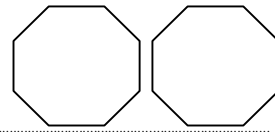
حالا عدد هایی را که بالا نوشتی به ترتیب از کمتر به بیشتر بشمار و مرتب کن.

از هر عدد یک خط بشمار و بنویس، در انتهای هر خط به مقدار هر عدد شکل و چوب خط بکش.

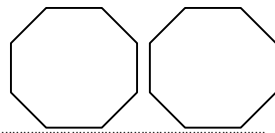
۱



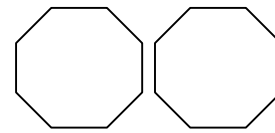
۲



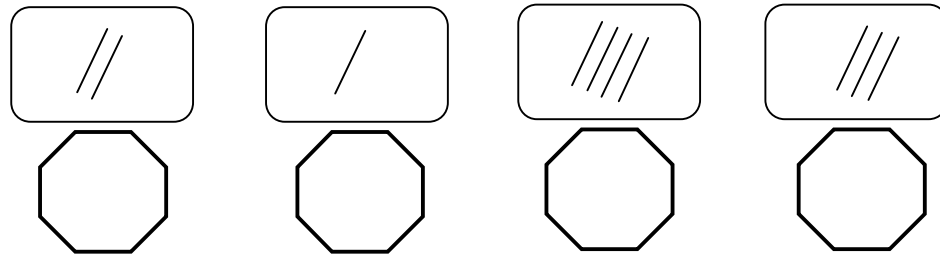
۳



۴



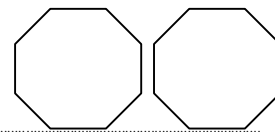
پسرم چوب خط ها را به دقت بشمار و عدد مناسب هر چوب خط را بنویس.



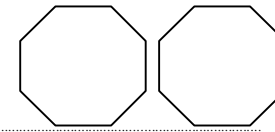
حالا عدد هایی را که بالا نوشتی به ترتیب از کمتر به بیشتر بشمار و مرتب کن.

از هر عدد یک خط بشمار و بنویس، در انتهای هر خط به مقدار هر عدد شکل و چوب خط بکش.

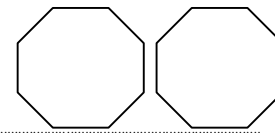
۱



۲



۳



۴

