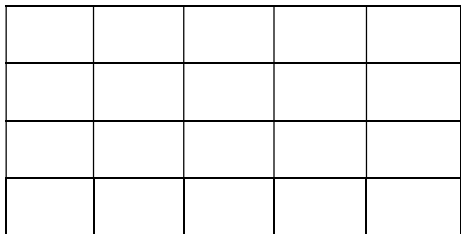
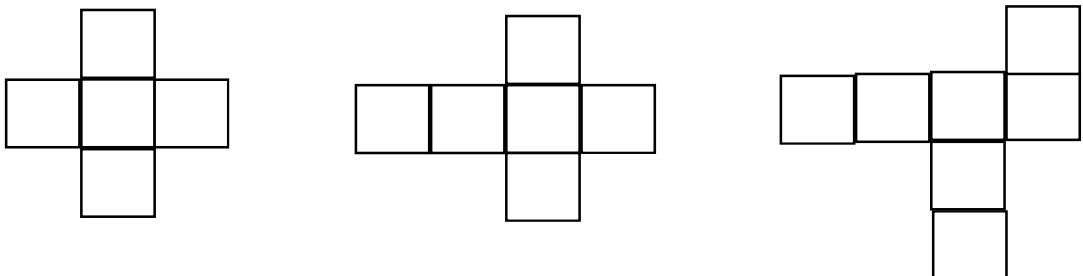
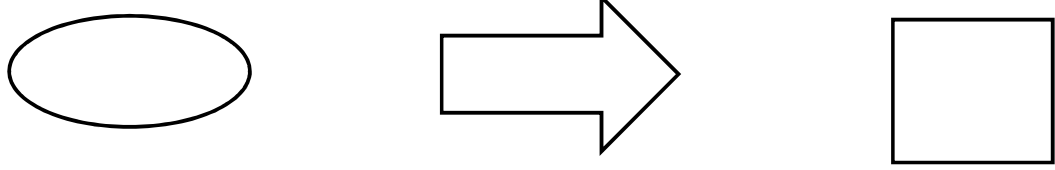


ردیف	سوالات
۱	<p>تعداد مربع های زیر را به روش شمارش چند تا چند تا بدست بیاور.</p>  <p>نوع اول</p> <p>نوع دوم.....</p> <p>نوع سوم</p> <p>نوع چهارم</p>
۲	<p>مستند تلویزیونی ساعت ۱۱ صبح شروع شد و ساعت ۳ بعدازظهر تمام شد . مدت زمان پخش این برنامه چند ساعت بوده است ؟</p>
۳	<p>کدام یک از شکل های زیر باز شده ی یک مکعب است ؟ آن را با علامت × مشخص کن.</p> 
۴	<p>قطار تهران - شیراز ساعت ۱۲ ظهر از تهران حرکت کرد و پس از ۹ ساعت به شیراز رسید . این قطار در چه ساعتی به شیراز رسیده است ؟ به دو صورت بیان کنید.</p>
۵	<p>خط تقارن شکل های زیر را رسم کنید .</p> 
۶	<p>مدرسه ای ۶ کلاس دارد . که در هر کلاس ۱۲ نیمکت وجود دارد . در این مدرسه چند نیمکت وجود دارد ؟ (روش الگویابی)</p>

سوالات

ردیف

هر شبانه روز ساعت هست . که ساعت آن قبل از ظهر و ساعت آن بعد از ظهر است .

۷

جدول زیر را کامل کن .

۸

زمان	۱۷			۱۹:۱۸	۲۲ و ربع	
ساعت در بعدازظهر		۸	3:15			۴:۳۰

یک دانش آموز روز اول ۱۰ دقیقه مطالعه می کند . اگر او هر روز ۵ دقیقه بیشتر مطالعه کند ، پس از چند روز می تواند ۴۵ دقیقه مطالعه کند ؟

۹

سوال ستاره دار

xxxx

سارا ۶ روز متوالی کتاب داستانی که ۲۳۰ صفحه دارد را مطالعه کرده است . اگر روز اول ۱۰ صفحه و هر روز ۵ صفحه بیش تر از روز قبل خوانده باشد ، چند صفحه از کتاب را هنوز مطالعه نکرده است ؟

نیاز به تلاش	قابل قبول	خوب	خیلی خوب	
				انواع شمارش چندتا چندتا را بخوبی انجام می دهد
				مساله های مربوط به ساعت در بعد از ظهر را جواب می دهد
				مفهوم تقارن را آموخته است
				روش های حل مساله (الگویابی) را بخوبی آموخته است
				حالت های مکعب را می شناسد.